

MATEMATIKA DISKRIT

FUNGSI

Fungsi

- Misalkan A dan B himpunan.
Relasi biner f dari A ke B merupakan suatu fungsi jika *setiap* elemen di dalam A dihubungkan dengan tepat satu elemen di dalam B .

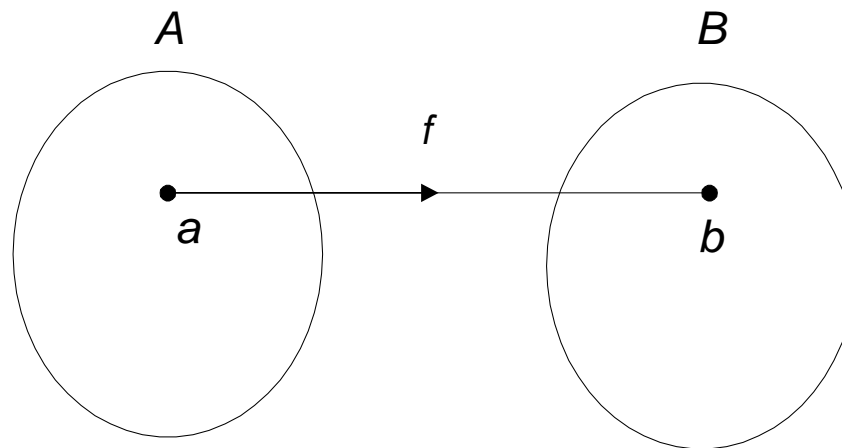
Jika f adalah fungsi dari A ke B kita menuliskan

$$f: A \rightarrow B$$

yang artinya f **memetakan** A ke B .

- A disebut **daerah asal** (*domain*) dari f dan B disebut **daerah hasil** (*codomain*) dari f .
- Nama lain untuk fungsi adalah **pemetaan** atau **transformasi**.
- Kita menuliskan $f(a) = b$ jika elemen a di dalam A dihubungkan dengan elemen b di dalam B .

- Jika $f(a) = b$, maka b dinamakan **bayangan** (*image*) dari a dan a dinamakan **pra-bayangan** (*pre-image*) dari b .
- Himpunan yang berisi semua nilai pemetaan f disebut **jelajah** (*range*) dari f . Perhatikan bahwa jelajah dari f adalah himpunan bagian (mungkin *proper subset*) dari B .



- Fungsi adalah relasi yang khusus:
 1. Tiap elemen di dalam himpunan A harus digunakan oleh prosedur atau kaidah yang mendefinisikan f .
 2. Frasa “dihubungkan dengan tepat satu elemen di dalam B ” berarti bahwa jika $(a, b) \in f$ dan $(a, c) \in f$, maka $b = c$.

- Fungsi dapat dispesifikasikan dalam berbagai bentuk, diantaranya:

1. Himpunan pasangan terurut.
Seperti pada relasi.

2. Formula pengisian nilai (*assignment*).
Contoh: $f(x) = 2x + 10$, $f(x) = x^2$, dan $f(x) = 1/x$.

3. Kata-kata
Contoh: “ f adalah fungsi yang memetakan jumlah bit 1 di dalam suatu *string* biner”.

4. Kode program (*source code*)
Contoh: Fungsi menghitung $|x|$

```
function abs (x:integer) :integer;  
begin  
    if x < 0 then  
        abs := -x  
    else  
        abs := x;  
end;
```

Contoh 1. Relasi

$$f = \{(1, u), (2, v), (3, w)\}$$

dari $A = \{1, 2, 3\}$ ke $B = \{u, v, w\}$ adalah fungsi dari A ke B . Di sini $f(1) = u$, $f(2) = v$, dan $f(3) = w$. Daerah asal dari f adalah A dan daerah hasil adalah B . Jelajah dari f adalah $\{u, v, w\}$, yang dalam hal ini sama dengan himpunan B .

Contoh 2. Relasi

$$f = \{(1, u), (2, u), (3, v)\}$$

dari $A = \{1, 2, 3\}$ ke $B = \{u, v, w\}$ adalah fungsi dari A ke B , meskipun u merupakan bayangan dari dua elemen A . Daerah asal fungsi adalah A , daerah hasilnya adalah B , dan jelajah fungsi adalah $\{u, v\}$.

Contoh 3. Relasi

$$f = \{(1, u), (2, v), (3, w)\}$$

dari $A = \{1, 2, 3, 4\}$ ke $B = \{u, v, w\}$ bukan fungsi, karena tidak semua elemen A dipetakan ke B .

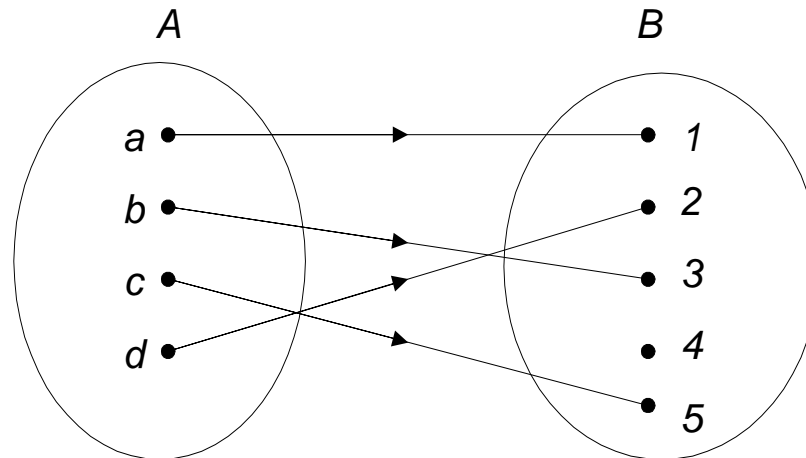
Contoh 4. Relasi

$$f = \{(1, u), (1, v), (2, v), (3, w)\}$$

dari $A = \{1, 2, 3\}$ ke $B = \{u, v, w\}$ bukan fungsi, karena 1 dipetakan ke dua buah elemen B , yaitu u dan v .

Contoh 5. Misalkan $f: \mathbf{Z} \rightarrow \mathbf{Z}$ didefinisikan oleh $f(x) = x^2$. Daerah asal dan daerah hasil dari f adalah himpunan bilangan bulat, dan jelajah dari f adalah himpunan bilangan bulat tidak-negatif.

- Fungsi f dikatakan **satu-ke-satu** (*one-to-one*) atau **injektif** (*injective*) jika tidak ada dua elemen himpunan A yang memiliki bayangan sama.



Contoh 6. Relasi

$$f = \{(1, w), (2, u), (3, v)\}$$

dari $A = \{1, 2, 3\}$ ke $B = \{u, v, w, x\}$ adalah fungsi satu-ke-satu,

Tetapi relasi

$$f = \{(1, u), (2, u), (3, v)\}$$

dari $A = \{1, 2, 3\}$ ke $B = \{u, v, w\}$ bukan fungsi satu-ke-satu, karena $f(1) = f(2) = u$.

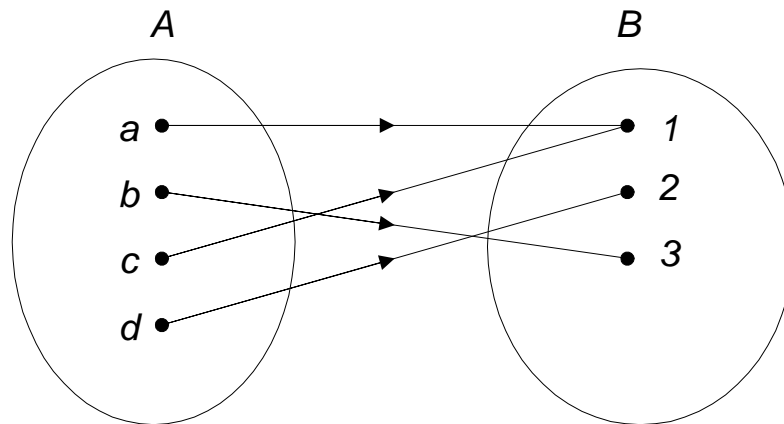
Contoh 7. Misalkan $f : \mathbf{Z} \rightarrow \mathbf{Z}$. Tentukan apakah $f(x) = x^2 + 1$ dan $f(x) = x - 1$ merupakan fungsi satu-ke-satu?

Penyelesaian:

- (i) $f(x) = x^2 + 1$ bukan fungsi satu-ke-satu, karena untuk dua x yang bernilai mutlak sama tetapi tandanya berbeda nilai fungsinya sama, misalnya $f(2) = f(-2) = 5$ padahal $-2 \neq 2$.
- (ii) $f(x) = x - 1$ adalah fungsi satu-ke-satu karena untuk $a \neq b$,
 $a - 1 \neq b - 1$.

Misalnya untuk $x = 2$, $f(2) = 1$ dan untuk $x = -2$, $f(-2) = -3$.

- Fungsi f dikatakan dipetakan **pada** (*onto*) atau **surjektif** (*surjective*) jika setiap elemen himpunan B merupakan bayangan dari satu atau lebih elemen himpunan A .
- Dengan kata lain seluruh elemen B merupakan jelajah dari f . Fungsi f disebut fungsi pada himpunan B .



Contoh 8. Relasi

$$f = \{(1, u), (2, u), (3, v)\}$$

dari $A = \{1, 2, 3\}$ ke $B = \{u, v, w\}$ bukan fungsi pada karena w tidak termasuk jelajah dari f .

Relasi

$$f = \{(1, w), (2, u), (3, v)\}$$

dari $A = \{1, 2, 3\}$ ke $B = \{u, v, w\}$ merupakan fungsi pada karena semua anggota B merupakan jelajah dari f .

Contoh 9. Misalkan $f : \mathbf{Z} \rightarrow \mathbf{Z}$. Tentukan apakah $f(x) = x^2 + 1$ dan $f(x) = x - 1$ merupakan fungsi pada?

Penyelesaian:

- (i) $f(x) = x^2 + 1$ bukan fungsi pada, karena tidak semua nilai bilangan bulat merupakan jelajah dari f .
- (ii) $f(x) = x - 1$ adalah fungsi pada karena untuk setiap bilangan bulat y , selalu ada nilai x yang memenuhi, yaitu $y = x - 1$ akan dipenuhi untuk $x = y + 1$.

- Fungsi f dikatakan **berkoresponden satu-ke-satu** atau **bijeksi** (*bijection*) jika ia fungsi satu-ke-satu dan juga fungsi pada.

Contoh 10. Relasi

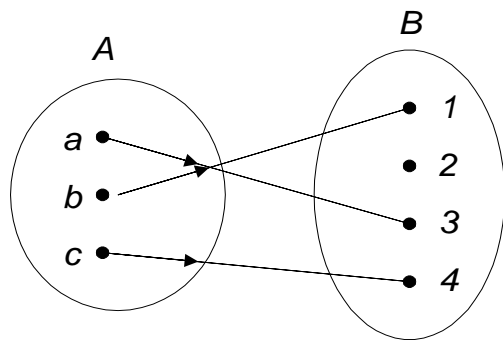
$$f = \{(1, u), (2, w), (3, v)\}$$

dari $A = \{1, 2, 3\}$ ke $B = \{u, v, w\}$ adalah fungsi yang berkoresponden satu-ke-satu, karena f adalah fungsi satu-ke-satu maupun fungsi pada.

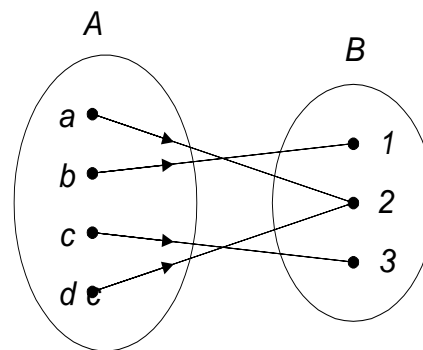
Contoh 11. Fungsi $f(x) = x - 1$ merupakan fungsi yang berkoresponden satu-ke-satu, karena f adalah fungsi satu-ke-satu maupun fungsi pada.

Contoh 12.

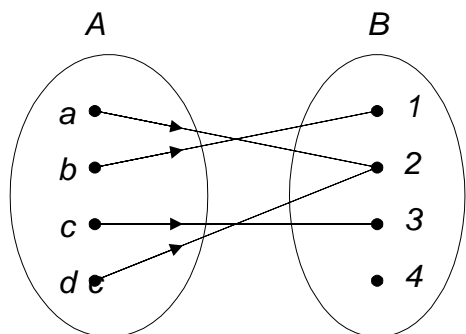
Fungsi satu-ke-satu,
bukan pada



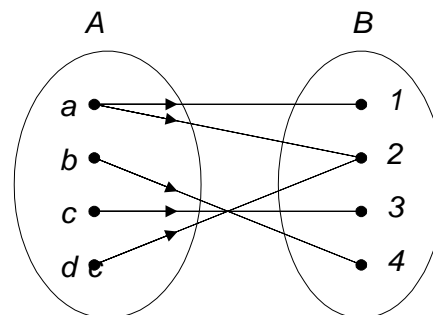
Fungsi pada,
bukan satu-ke-satu



Bukan fungsi satu-ke-satu
maupun pada



Bukan fungsi



- Jika f adalah fungsi **berkoresponden satu-ke-satu** dari A ke B , maka kita dapat menemukan **balikan** (*invers*) dari f .
- Balikan fungsi dilambangkan dengan f^{-1} . Misalkan a adalah anggota himpunan A dan b adalah anggota himpunan B , maka $f^{-1}(b) = a$ jika $f(a) = b$.
- Fungsi yang berkoresponden satu-ke-satu sering dinamakan juga fungsi yang *invertible* (dapat dibalikkan), karena kita dapat mendefinisikan fungsi balikkannya. Sebuah fungsi dikatakan *not invertible* (tidak dapat dibalikkan) jika ia bukan fungsi yang berkoresponden satu-ke-satu, karena fungsi balikkannya tidak ada.

Contoh 13. Relasi

$$f = \{(1, u), (2, w), (3, v)\}$$

dari $A = \{1, 2, 3\}$ ke $B = \{u, v, w\}$ adalah fungsi yang berkoresponden satu-ke-satu. Balikan fungsi f adalah

$$f^{-1} = \{(u, 1), (w, 2), (v, 3)\}$$

Jadi, f adalah fungsi *invertible*.

Contoh 14. Tentukan balikan fungsi $f(x) = x - 1$.

Penyelesaian:

Fungsi $f(x) = x - 1$ adalah fungsi yang berkoresponden satu-ke-satu, jadi balikan fungsi tersebut ada.

Misalkan $f(x) = y$, sehingga $y = x - 1$, maka $x = y + 1$. Jadi, balikan fungsi balikannya adalah $f^{-1}(y) = y + 1$.

Contoh 15. Tentukan balikan fungsi $f(x) = x^2 + 1$.

Penyelesaian:

Dari Contoh 7 (i) kita sudah menyimpulkan bahwa $f(x) = x^2 + 1$ bukan fungsi yang berkoresponden satu-ke-satu, sehingga fungsi balikannya tidak ada. Jadi, $f(x) = x^2 + 1$ adalah fungsi yang *not invertible*.

Komposisi dari dua buah fungsi.

Misalkan g adalah fungsi dari himpunan A ke himpunan B , dan f adalah fungsi dari himpunan B ke himpunan C . Komposisi f dan g , dinotasikan dengan $f \circ g$, adalah fungsi dari A ke C yang didefinisikan oleh

$$(f \circ g)(a) = f(g(a))$$

Contoh 16. Diberikan fungsi

$$g = \{(1, u), (2, u), (3, v)\}$$

yang memetakan $A = \{1, 2, 3\}$ ke $B = \{u, v, w\}$, dan fungsi

$$f = \{(u, y), (v, x), (w, z)\}$$

yang memetakan $B = \{u, v, w\}$ ke $C = \{x, y, z\}$. Fungsi komposisi dari A ke C adalah

$$f \circ g = \{(1, y), (2, y), (3, x)\}$$

Contoh 17. Diberikan fungsi $f(x) = x - 1$ dan $g(x) = x^2 + 1$.
Tentukan $f \circ g$ dan $g \circ f$.

Penyelesaian:

$$(i) (f \circ g)(x) = f(g(x)) = f(x^2 + 1) = x^2 + 1 - 1 = x^2.$$

$$(ii) (g \circ f)(x) = g(f(x)) = g(x - 1) = (x - 1)^2 + 1 = x^2 - 2x + 2.$$

Beberapa Fungsi Khusus

1. Fungsi *Floor* dan *Ceiling*

Misalkan x adalah bilangan riil, berarti x berada di antara dua bilangan bulat.

Fungsi *floor* dari x :

$\lfloor x \rfloor$ menyatakan nilai bilangan bulat terbesar yang lebih kecil atau sama dengan x

Fungsi *ceiling* dari x :

$\lceil x \rceil$ menyatakan bilangan bulat terkecil yang lebih besar atau sama dengan x

Dengan kata lain, fungsi *floor* membulatkan x ke bawah, sedangkan fungsi *ceiling* membulatkan x ke atas.

Contoh 18. Beberapa contoh nilai fungsi *floor* dan *ceiling*:

$$\lfloor 3.5 \rfloor = 3$$

$$\lceil 3.5 \rceil = 4$$

$$\lfloor 0.5 \rfloor = 0$$

$$\lceil 0.5 \rceil = 1$$

$$\lfloor 4.8 \rfloor = 4$$

$$\lceil 4.8 \rceil = 5$$

$$\lfloor -0.5 \rfloor = -1$$

$$\lceil -0.5 \rceil = 0$$

$$\lfloor -3.5 \rfloor = -4$$

$$\lceil -3.5 \rceil = -3$$

Contoh 19. Di dalam komputer, data dikodekan dalam untaian *byte*, satu *byte* terdiri atas 8 bit. Jika panjang data 125 bit, maka jumlah *byte* yang diperlukan untuk merepresentasikan data adalah $\lceil 125/8 \rceil = 16$ *byte*. Perhatikanlah bahwa $16 \times 8 = 128$ bit, sehingga untuk *byte* yang terakhir perlu ditambahkan 3 bit ekstra agar satu *byte* tetap 8 bit (bit ekstra yang ditambahkan untuk menggenapi 8 bit disebut *padding bits*).

2. Fungsi modulo

Misalkan a adalah sembarang bilangan bulat dan m adalah bilangan bulat positif.

$a \bmod m$ memberikan sisa pembagian bilangan bulat bila a dibagi dengan m

$a \bmod m = r$ sedemikian sehingga $a = mq + r$, dengan $0 \leq r < m$.

Contoh 20. Beberapa contoh fungsi modulo

$$25 \bmod 7 = 4$$

$$15 \bmod 4 = 3$$

$$3612 \bmod 45 = 12$$

$$0 \bmod 5 = 0$$

$$-25 \bmod 7 = 3 \quad (\text{sebab } -25 = 7 \cdot (-4) + 3)$$

3. Fungsi Faktorial

$$n! = \begin{cases} 1 & , n = 0 \\ 1 \times 2 \times \dots \times (n-1) \times n & , n > 0 \end{cases}$$

4. Fungsi Eksponensial

$$a^n = \begin{cases} 1 & , n = 0 \\ \underbrace{a \times a \times \dots \times a}_n & , n > 0 \end{cases}$$

Untuk kasus perpangkatan negatif,

$$a^{-n} = \frac{1}{a^n}$$

5. Fungsi Logaritmik

Fungsi logaritmik berbentuk

$$y = {}^a \log x \leftrightarrow x = a^y$$

Fungsi Rekursif

- Fungsi f dikatakan fungsi rekursif jika definisi fungsinya mengacu pada dirinya sendiri.

Contoh: $n! = 1 \times 2 \times \dots \times (n - 1) \times n = (n - 1)! \times n.$

$$n! = \begin{cases} 1 & , n = 0 \\ n \times (n - 1)! & , n > 0 \end{cases}$$

Fungsi rekursif disusun oleh dua bagian:

(a) *Basis*

Bagian yang berisi nilai awal yang tidak mengacu pada dirinya sendiri. Bagian ini juga sekaligus menghentikan definisi rekursif.

(b) *Rekurens*

Bagian ini mendefinisikan argumen fungsi dalam terminologi dirinya sendiri. Setiap kali fungsi mengacu pada dirinya sendiri, argumen dari fungsi harus lebih dekat ke nilai awal (basis).

- Contoh definisi rekursif dari faktorial:

(a) basis:

$$n! = 1 \quad , \text{ jika } n = 0$$

(b) rekurens:

$$n! = n \times (n - 1)! \quad , \text{ jika } n > 0$$

5! dihitung dengan langkah berikut:

$$(1) 5! = 5 \times 4! \quad (\text{rekurens})$$

$$(2) \quad 4! = 4 \times 3!$$

$$(3) \quad 3! = 3 \times 2!$$

$$(4) \quad 2! = 2 \times 1!$$

$$(5) \quad 1! = 1 \times 0!$$

$$(6) \quad 0! = 1$$

$$(6') 0! = 1$$

$$(5') 1! = 1 \times 0! = 1 \times 1 = 1$$

$$(4') 2! = 2 \times 1! = 2 \times 1 = 2$$

$$(3') 3! = 3 \times 2! = 3 \times 2 = 6$$

$$(2') 4! = 4 \times 3! = 4 \times 6 = 24$$

$$(1') 5! = 5 \times 4! = 5 \times 24 = 120$$

Jadi, $5! = 120$.

Contoh 21. Di bawah ini adalah contoh-contoh fungsi rekursif lainnya:

$$1. F(x) = \begin{cases} 0 & , x = 0 \\ 2F(x-1) + x^2 & , x \neq 0 \end{cases}$$

2. Fungsi Chebysev

$$T(n, x) = \begin{cases} 1 & , n = 0 \\ x & , n = 1 \\ 2xT(n-1, x) - T(n-2, x) & , n > 1 \end{cases}$$

3. Fungsi fibonacci:

$$f(n) = \begin{cases} 0 & , n = 0 \\ 1 & , n = 1 \\ f(n-1) + f(n-2) & , n > 1 \end{cases}$$

LATIHAN SOAL

1. Misalkan f adalah fungsi dari $x = \{0, 1, 2, 3, 4\}$ ke x yang didefinisikan oleh $f(x) = 4x \bmod 5$. Tuliskan f sebagai himpunan pasangan terurut. Apakah f fungsi satu-ke-satu (*one-to-one*) atau dipetakan pada (*onto*)?
2. Misalkan n menyatakan bilangan bulat positif dan fungsi f didefinisikan secara rekursif :

$$n! = \begin{cases} 0, & n = 1 \\ f\left(\left\lfloor \frac{n}{2} \right\rfloor\right) + 1, & n > 1 \end{cases}$$

- Tentukan :
- a). $f(25)$
 - b). $f(10)$